

Школьный этап

XVII Всероссийской олимпиады школьников по технологии 2017/18 г.

Номинация «Культура дома и декоративно – прикладное творчество»

5-6 класс

Теоретический конкурс (тестирование)

1. О каком продукте идёт речь в загадке:

В поле родился, на заводе варился, в стакане растворился.

Ответ: _____

2. «Приготовьте» завтрак на пять человек. Рассчитайте необходимое количество продуктов и вставьте пропущенные цифры в таблице:

Блюдо	Продукты	Количество продуктов на одного человека	Количество продуктов на пять человек
Бутерброд	Хлеб	2 ломтика	ЛОМТИКОВ
	Колбаса	30 г	г
	Сыр	30 г	г
	Зелень, овощи	10 г	г
Чай	Заварка	2 г	г
	Сахар	10 г	г

3. Определите продукты питания, богатые:

- а) - белками,
- б) - жирами,
- в) – углеводами

Напишите соответствующую букву под каждым рисунком:



1-



2-



3-

Отметьте знаком "+" все правильные ответы

4. К посуде относятся:

- а) ножи;
- б) закусочные тарелки;
- в) фужеры;
- г) бульонные чашки;
- д) салатники.

5. Вставьте пропущенное слово в пословице:

«Какова _____, такова на ней и рубаха.»

Отметьте знаком «+» правильный ответ:

6. Специалист по созданию моделей одежды это:

- а) инженер;
- б) модельер;
- в) конструктор.

7. Заполните сравнительную характеристику свойств ткани и бумаги, используя слова для справок: более, менее, мягкая, жесткая.

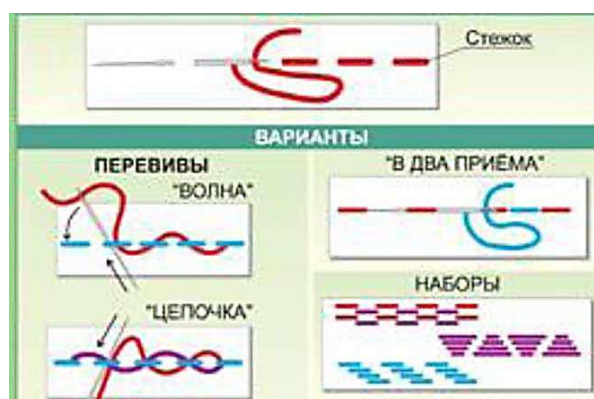
Свойства	Ткань	Бумага
Прочность на разрыв	прочная	прочная
Сминаемость	сминаемые	сминаемые
Мягкость		

Отметьте знаком "+" все правильные ответы.

8. Укажите инструменты, используемые для выполнения ручных строчек:

- а) сантиметровая лента,
- б) напёрсток,
- в) ручные иглы,
- г) ножницы,
- д) булавки.

9. Назовите стежок, варианты которого изображены на рисунке:



Ответ: _____

10. Ширина ткани - это:

- а) расстояние, равное длине основной нити;
- б) расстояние от кромки до кромки.

11. Долевая нить при растяжении:

- а) изменяет свою длину;
- б) не изменяет своей длины.

Отметьте знаком "+" все правильные ответы

12. Волокна растительного происхождения получают из:

- а) крапивы;
- б) льна;
- в) шерсти;
- г) хлопка.

13. Установите соответствие между названием шва и его условным изображением.

а) стачной взаутюжку	I	
б) стачной вразутюжку	II	
в) шов вподгибку с открытым срезом	III	
г) шов вподгибку с закрытым срезом	IV	

Отметьте знаком «+» правильный ответ:

14. К декоративным стежкам не относится:

- а) потайной;
- б) тамбурный;
- в) петельный.

15. В машинной игле ушко находится:

- а) в середине иглы;
- б) рядом с острием;

в) там же, где у иглы для ручного шитья.

16. Деталь, швейной машины, которая участвует в регулировке натяжения нижней нити:

- а) регулятор строчки;
- б) нитепритягиватель;
- в) шпульный колпачок;
- г) регулятор натяжения верхней нити.

17. Укажите цифрами в левом столбце правильную последовательность технологии изготовления швейного изделия:

	А. Построение выкройки
	Б. Влажно-тепловая обработка
	В. Снятие мерок
	Г. Раскрой изделия
	Д. Пошив изделия

18. К инструментам для вышивания относятся:

- а) игла;
- б) наперсток;
- в) колышек;
- г) сантиметровая лента;
- д) лекало;
- е) ножницы;
- ж) резец;
- з) пяльцы.


19. Швейные изделия украшают вышивкой:

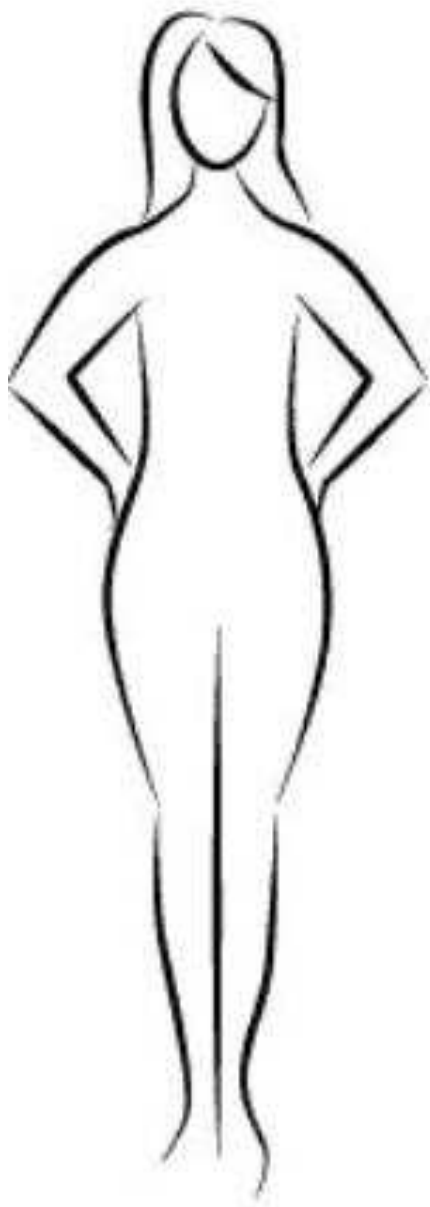
- а) машинной;
- б) ручной;
- в) зигзагообразной.

20. Творческое задание.

На чертеже фартука нанесены линии фасона.

- а) нарисуйте эскиз этого фартука;
 - б) укажите ткань, из которой можно его сшить;
 - в) перечислите виды отделки для украшения этого фартука.
- Ответы занесите в таблицу.



Эскиз	
Виды ткани по волокну составу	
Виды декоративной отделки	