

## Школьный этап

XVII Всероссийской олимпиады школьников по технологии 2017/18 г.

Номинация «Культура дома и декоративно – прикладное творчество»

7 класс

### Теоретический конкурс (тестирование)

1. Вставьте пропущенное слово в высказывании Сократа (древнегреческий философ) «Мы живем не для того, чтобы \_\_\_\_\_, а едим для того, чтобы \_\_\_\_\_».


2. Определите продукты питания, богатые витаминами: А, В, С и Д, напишите соответствующую букву под рисунком:



1 -



2-



3-



4-

Отметьте знаком "+" все правильные ответы.

3. Для длительного хранения овощи:

- а) промывают;
- б) солят;
- в) маринуют;
- г) жарят;
- д) засушивают;
- е) замораживают.

4. К видам мяса относятся:

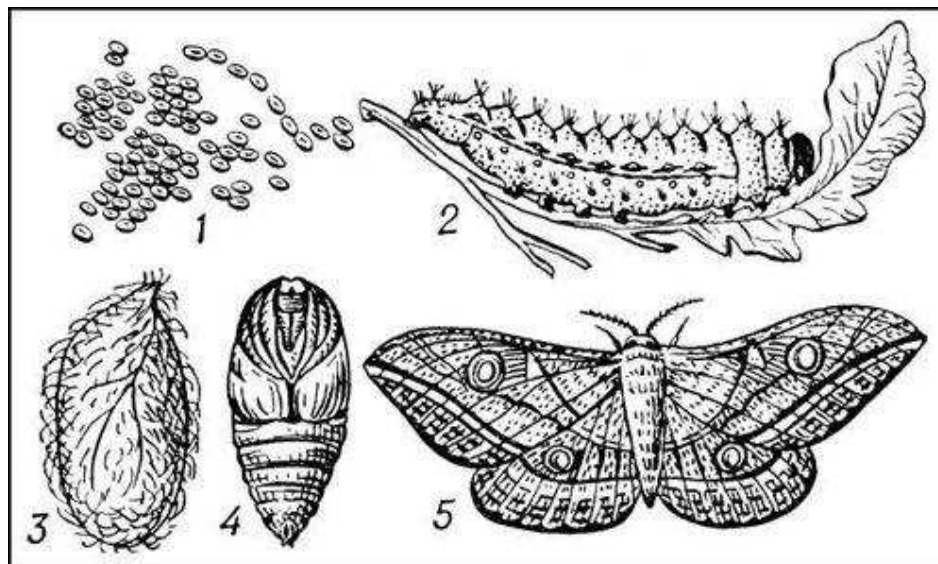
- а) печень;
- б) язык;
- в) свинина;
- г) говядина.

5. При формировании пельменей фарш должен быть:

- а) вареной,
- б) сырой,
- в) жареной.

**6 Рассмотрите рисунок и ответьте на вопросы:**

- а) Какое насекомое изображено на рисунке?
- б) Как изображённое на рисунке насекомое, связано с текстильным производством?



Ответ: а) \_\_\_\_\_  
б) \_\_\_\_\_

**7. Используя ответ задания 6, подпишите стадии развития насекомого. Укажите номер стадии, которая ценна для текстильного производства.**

1 \_\_\_\_\_, 2 \_\_\_\_\_, 3 \_\_\_\_\_  
4 \_\_\_\_\_, 5 \_\_\_\_\_;

Стадия № \_\_\_\_\_

Отметьте знаком "+" все правильные ответы.





**8. Природный цвет волокон шерсти овец бывает:**

- а) белый;
- б) черный;
- в) коричневый;
- г) серый.

**9. Поломка машинной иглы может произойти, если:**

- а) игла имеет ржавый налет;
- б) игла погнута;
- в) игла вставлена в иглодержатель до упора;
- г) игла вставлена в иглодержатель не до упора.

**10. Назовите швы, изображенные в таблице.**

а)	I	
б)	II	
в)	III	
г)	IV	

**11. Определите длину пояса для юбки, если Ст=33 см, Пт=1см, Пз(припуск на застежку и обработку концов)= 5 см.**

Расчет длины пояса: Дп = \_\_\_\_\_

Отметьте знаком "+" все правильные ответы.

**12. Для обработки нижнего среза изделия используют машинные швы:**

- а) стачной;
- б) настрочной;
- в) накладной;
- г) вподгибку с закрытым срезом;
- д) вподгибку с открытым срезом.

Отметьте знаком "+" правильный ответ.

**13. Рабочей частью иглы является:**

- а) остриё,
- б) стержень,
- в) колба.

**14. Какая мерка записывается полностью?**

- а) Ди,
- б) Ст,
- в) Сб.

**15. Укажите последовательность изготовления юбки.**

- а) построение чертежа,
- б) моделирование юбки,
- в) снятие мерок,
- г) раскрой ткани,

- д) обработка юбки;
- е) окончательная ВТО.




**16. Установите соответствие между технологической операцией и видом шва, которым она выполняется.**

- а) стачивание боковых швов,      I) шов вподгибку,
- б) втачивание молнии,            II) накладной шов,
- в) подшивание низа юбки,        III) стачной шов.

**17. Прорезную петлю можно обработать:**

- а) строчкой зиг-заг,
- б) потайными стежками,
- в) косыми стежками,
- г) петельными стежками.

**18. Назовите вышивальные швы:**

а)	
б)	
в)	

Отметьте знаком "+" правильный ответ.

**19. Как часто нужно проводить генеральную уборку дома?**

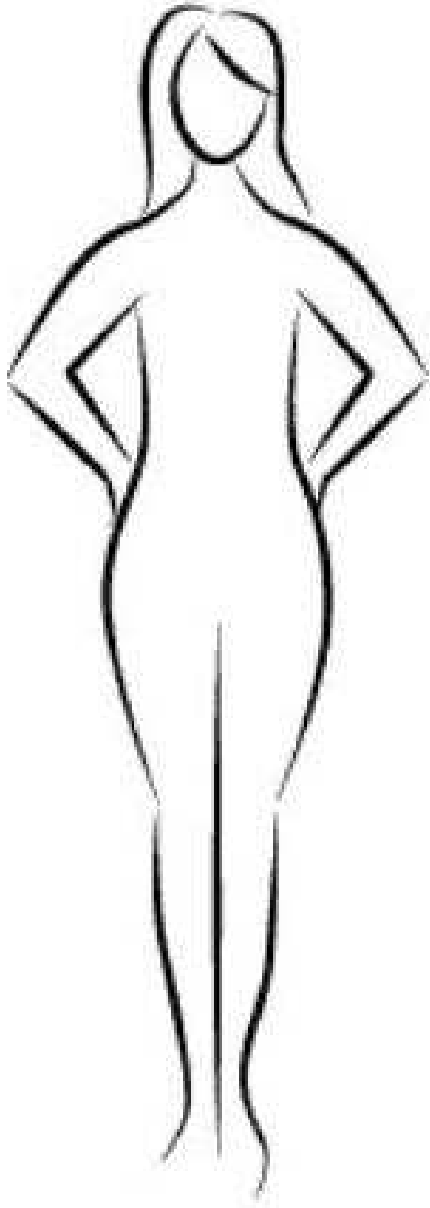
- а) каждый месяц,
- б) один раз в год,
- в) 3-4 раза в год.

**20. Творческое задание. Выберите одну из предложенных конструкций юбки:**

- а) прямая;
- б) клиньевая;
- в) коническая;

**Выполните её эскиз. Укажите ткани, которые можно использовать для пошива данной юбки.**

Ответы занесите в таблицу.

Эскиз	
Виды ткани по волокнистому составу	

Оценка задания:

1. эскиз – до 4 баллов;

2.виды ткани – до 2 баллов; Итого: до 6 баллов.