

Школьный этап

XVII Всероссийской олимпиады школьников по технологии 2017/18 г.

Номинация «Культура дома и декоративно – прикладное творчество»

8 класс

Теоретический конкурс (тестирование)

1. Эта водоросль, богатая йодом, называется ламинария, а в кулинарии она известна под названием _____.

Отметьте знаком "+" правильный ответ.

2. Расстегай – это...

- а) пирожок с рыбой,
- б) вид воротника,
- в) вид застежки.

3. Определить, является куриное яйцо вареным или сырым, можно:

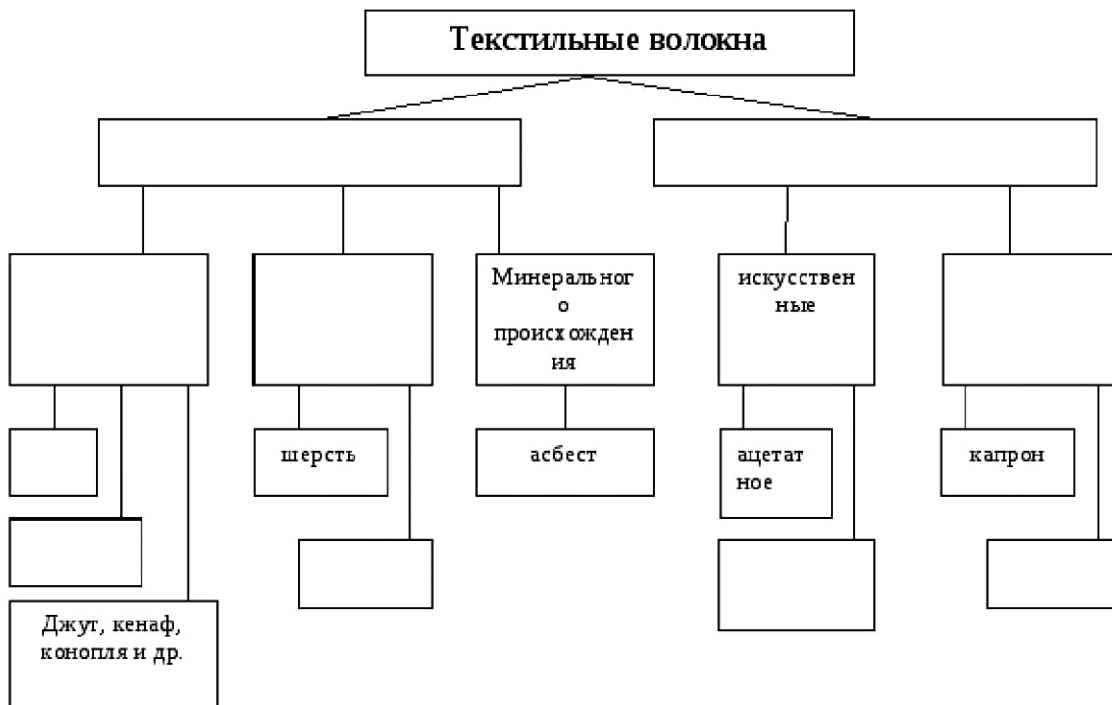
- а) опустив яйцо в сосуд с водой;
- б) по звуку, издаваемому яйцом при его встряхивании;
- в) кручением яйца на поверхности стола.

Отметьте знаком "+" все правильные ответы.

4. Доброкачественное мясо:

- а) упругое;
- б) имеет мягкий жир;
- в) имеет твердый жир;
- г) не упругое.

5. Заполните в схеме классификации волокон недостающие названия:

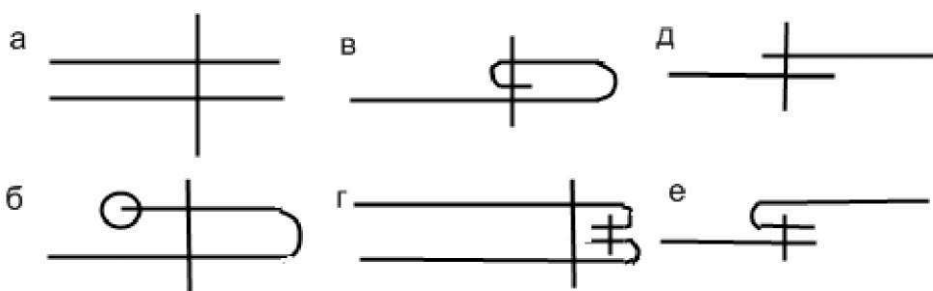


Отметьте знаком "+" все правильные ответы.

6. К технологическим свойствам тканей относятся:

- а) прочность;
- б) драпируемость;
- в) раздвижка нитей в швах;
- г) сопротивляемость резанию;
- д) осыпаемость.

7. Выберите швы для обработки боковых швов различных изделий, напишите их названия:



Ответ: _____

8. Обработать нижний срез юбки из толстой ткани можно вручную швом:

- а) накладным;
- б) потайным;
- в) петельным;
- г) крестообразным («козлик»);
- д) «вперед иголку».

Отметьте знаком "+" правильный ответ.

9. По какой мерке рассчитывается ширина ночной сорочки?

- а) Ди
- б) Ст
- в) Сб
- г) СгII
- д) Сш

Вставьте пропущенное слово.

10.

_____ - характерное контурное очертание фигуры. Он определяет ее главные и общие пропорции.

11. «Встречают по _____, а провожают по уму».

12. Дайте определение элемента женского костюма - боа, о котором упоминается в романе «Евгений Онегин» А.С.Пушкина:

" ... Он счастлив, если ей накинёт
Боа пушистый на плечо..."

Ответ: боа – это _____

Отметьте знаком "+" правильный ответ.

13. Долевая нить ткани при раскладке выкройки ночной сорочки располагается:

- а) по ширине изделия;
- б) по длине изделия;
- в) по диагонали.

14. Контрольные линии на деталях кроя прокладывают стежками:

- а) сметочными;
- б) копированными;
- в) косыми.

15. Рассмотрите информацию в таблице, ответьте на вопросы:

- а) Какой вид рукоделия представлен в таблице?
- б) Найдите соответствие схем и образцов.

	схемы вязания		образцы
1		а	
2		б	
3		в	
4		г	

Ответ: а) _____



б) _____
Отметьте знаком "+" правильный ответ.

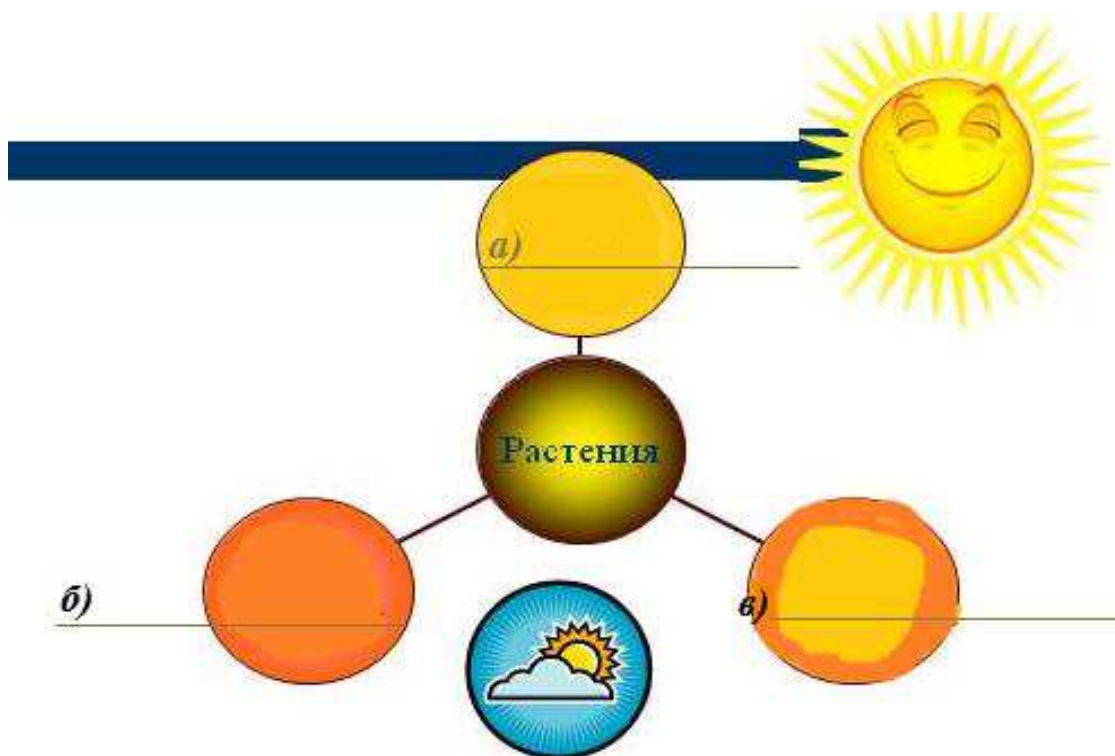
16. Прибыль - это:

- а) выручка минус налоги и амортизация;
- б) актив минус пассив;
- в) выручка минус зарплата;
- г) выручка минус затраты.

17. Что из предложенного обычно относят к переменным расходам?

- а) месячную ренту (арендную плату);
- б) процентные платежи по кредитам;
- в) оплату электроэнергии.

18. Укажите в схеме названия групп комнатных растений по их отношению к свету:



Отметьте знаком "+" правильный ответ.

19. Для выдвижения идеи проекта необходимо:

- а) разработать технологическую карту выполнения изделия;
- б) оценить экономические и экологические свойства проектного изделия;
- в) сформулировать проблему и собрать необходимую информацию;
- г) продумать презентацию проекта.

20. Творческое задание. Вам предложена выкройка фартука - туники (перед и спинка).

а) подпишите отмеченные линии на чертеже (1,2,3,4,5);

б) выполните эскиз изделия, согласно выкройке;

в) назовите виды ткани по волокнистому составу, рекомендуемые для этого изделия.

