



15. Богарным бывает:
- А) тип воспроизводства населения;
  - Б) аридное земледелие;
  - В) отработанное ядерное топливо;
  - Г) чугун.
16. Какая из стран ведет активную добычу в Северном море?
- А) Швеция;
  - Б) Исландия;
  - В) Великобритания;
  - Г) Дания.
17. После энергетического кризиса потребление нефти в развитых странах резко сократилось. Объясняется это:
- А) отказом стран-продавцов нефти отдавать ценное химическое сырье;
  - Б) общим снижением темпов добычи нефти;
  - В) резким скачком вверх доли атомной и гидроэнергии в топливно-энергетическом балансе мира;
  - Г) более экономным расходом нефти.
18. «Медным поясом» называют:
- А) Средиземноморское побережье Африки;
  - Б) Замбию и южную часть Заира;
  - В) побережье Гвинейского залива;
  - Г) государства Юго-Восточной Азии.
19. В какой из стран показатель лесистости территории наибольший?
- А) Индия;
  - Б) Замбия;
  - В) Суринам;
  - Г) Малайзия.
20. Основную часть электроэнергии в мире производят на:
- А) ТЭС;
  - Б) ГЭС;
  - В) АЭС;
  - Г) ГеЭС.
21. Наибольшим уровнем производства сельскохозяйственной продукции на душу населения отличается:
- А) Уганда;
  - Б) Аргентина;
  - В) Филиппины;
  - Г) Камерун.
22. В каком африканском городе был принят «План по борьбе с опустыниванием»?
- А) Каир;
  - Б) Найроби;
  - В) Триполи;
  - Г) Алжир.
23. Выберите отрасль, которая является основной причиной возникновения «кислотных дождей»:
- А) нефтехимическая;
  - Б) производство строительных материалов;
  - В) тепловая энергетика;
  - Г) пищевая промышленность.
24. В группу стран – членов ОПЕК **не** входит:
- А) Алжир;
  - Б) Нигерия;
  - В) Мексика;
  - Г) Венесуэла.
25. В какой из провинций Канады находится «столица» франко-канадцев?
- А) Альберта;
  - Б) Квебек;
  - В) Онтарио;
  - Г) Британская Колумбия.

## Аналитический раунд

### Задание 1.

Расположите фамилии отечественных исследователей и путешественников по количеству совершенных ими кругосветных экспедиций (по убыванию):

а) Федор Литке, б) Юрий Лисянский, в) Федор Конюхов, г) Фердинанд Врангель.

### Задание 2.

Разделите названия перечисленных ниже форм рельефа на две группы:

*камы, булгуньяхи, аласы, друмлины, зандровые равнины, «бараньи лбы», кигилляхи, гидролакколиты, тарыны, полигональные грунты, байджарахи, озы, сельги.*

- 1). На каком основании это можно сделать?
- 2). Какой природный фактор влияет на формирование этих форм рельефа?
- 3). Есть ли между этими группами нечто общее?
- 4). Какие два названия – полные синонимы?

### Задание 3.

Определите соответствие между народом и регионом, где он проживает, столица или город которого известны.

Народы: *шорцы, нивхи, табасараны, долганы, юкагиры, нанайцы, саамы, абазины, ительмены, ненцы.*

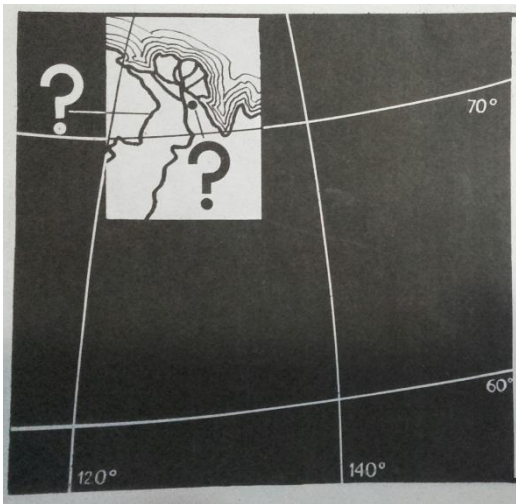
№ п/п	Город	Регион	Народ
1	Петропавловск-Камчатский		
2	Южно-Сахалинск		
3	Махачкала		
4	Комсомольск-на-Амуре		
5	Кемерово		
6	Черкесск		
7	Салехард		
8	Мончегорск		
9	Братск		
10	Уэллен		

### Задание 4.

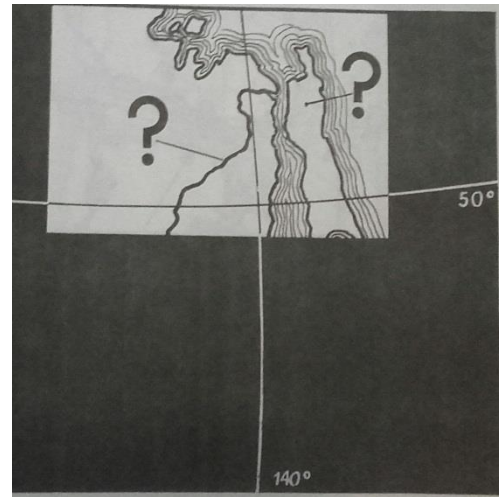
Проложите маршрут по Европе так, чтобы побывать в 6 странах, 3 из которых республики, а 3 – монархии. Начните путешествие с *республики* и, попеременно переезжая то в *монархию*, то в *республику*, побывайте во всех 6 странах, не *возвращаясь назад* и пересекая *только сухопутные границы* между странами.

### Задание 5.

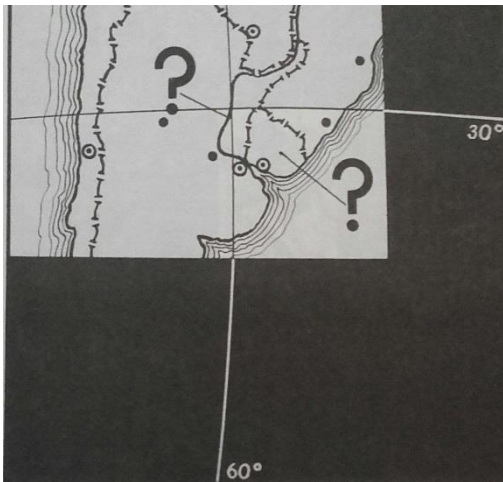
Для каждого из предложенных фрагментов карт определите географические объекты, на них изображенные, в том числе обозначенные вопросами.



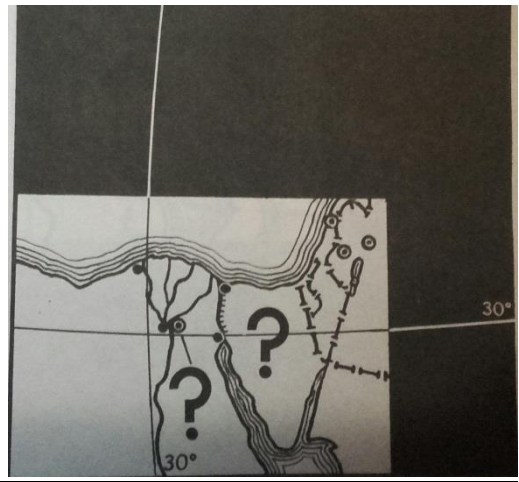
Фрагмент 1.



Фрагмент 2.



Фрагмент 3.



Фрагмент 4.