

ВСЕРОССИЙСКАЯ ОЛИМПИАДА ШКОЛЬНИКОВ
ПО ОБЖ 2018–2019 уч. г.
ШКОЛЬНЫЙ ЭТАП
10–11 классы

Уважаемый участник!

При выполнении заданий Вам предстоит выполнить определённую работу, которую лучше организовать следующим образом:

- внимательно прочитайте задание;
- если Вы отвечаете на теоретический вопрос или решаете ситуационную задачу, обдумайте и сформулируйте конкретный ответ (ответ должен быть кратким, и его содержание следует вписать в отведённое поле; пишите чётко и разборчиво);
- при ответе на тестовые задания определите верный ответ и обведите кружком букву (буквы), соответствующую(-ие) выбранному Вами ответу.

За каждый правильный ответ Вы можете получить определённое членами жюри количество баллов, не выше указанной максимальной оценки.

Сумма набранных баллов за все решённые вопросы в двух форматах – итог Вашей работы. Максимальное количество баллов – 90.

Задания считаются выполненными, если Вы вовремя сдали их членам жюри.

Желаем успеха!

Тестовые задания

Определите один правильный ответ.

1. **Является ли человек, ведущий мотоцикл, пешеходом?**
2. а) да, всегда
б) только при движении по обочине
в) нет
г) только при движении через пешеходный переход
3. **Чем является Знамя Победы?**
а) официальным государственным символом России
б) государственной реликвией России
в) воинской реликвией России
г) особо почётным знаком России
4. **Где безопаснее ожидать помощи, если вы упали на путь в метрополитене, не получили при падении серьёзных травм и можете самостоятельно двигаться?**
а) под краем платформы, с которой упали
б) не доходя до чёрно-белой рейки у начала платформы по ходу поезда
в) пройдя за чёрно-белую рейку у начала платформы по ходу поезда
г) за чёрно-белой рейкой в конце платформы по ходу поезда
5. **Какой уровень террористической опасности, устанавливаемый в РФ, лишний?** а) низкий
б) повышенный
в) критический
г) высокий
6. **Какое значение имеет сочетание красного и жёлтого сигналов светофора?**
а) предупреждает об опасности и информирует о наличии нерегулируемого пешеходного перехода
б) разрешает движение и информирует о наличии нерегулируемого перекрестка
в) разрешает движение и информирует, что время его действия истекает
г) запрещает движение и информирует о предстоящем включении зелёного сигнала
7. **Какие критерии определяют уровни экологической опасности в городе Москве?**
а) среднесуточные температура, концентрация взвешенных частиц и углекислого газа
б) среднесуточные температура, контракция сульфатов и кислорода
в) среднесуточные температура, концентрация разряженных частиц и ультрафиолета
г) среднесуточные температура, концентрация взвешенных частиц и озона
8. **Какое расстояние рекомендуется выбирать до конечной точки маршрута при организации однодневного турпохода?** а) не более 10 км в одну сторону
б) не более 15 км в одну сторону
в) не более 12 км в одну сторону
г) не более 13 км в одну сторону
9. **Каково основное негативное действие табачного дёгтя на организм человека?**
а) вызывает кислородное голодание организма
б) вызывает сужение сосудов
в) тормозит деятельность центральной нервной системы
г) является канцерогеном
10. **При каком повреждении применяется герметичная повязка?**

- а) ранение предплечья
- б) ранение живота
- в) ранение грудной клетки
- г) открытый перелом конечности

11. Какой приём первой помощи должен быть выполнен в первую очередь у пострадавшего с открытым переломом бедра с повреждением бедренной артерии?

- а) наложение стерильной повязки
- б) иммобилизация конечности
- в) обезболивание (приём обезболивающих средств при отсутствии лекарственной аллергии)
- г) наложение кровоостанавливающего жгута

Определите все правильные ответы.

12. В каких из растений происходящие изменения могут заблаговременно предупредить о дожде? а) в акации

- б) в конском каштане
- в) в липе
- г) в дубе
- д) в сосне

13. Какой может быть санитарная обработка в зависимости от условий и времени?

- а) частичной
- б) временной
- в) полной
- г) ограниченной
- д) поверхностной

14. Определите ветровой режим и признак ветра силой в 6 баллов по шкале Бофорта.

- а) ветровой режим «Свежий»
- б) признак «Ветер поднимает пыль и бумажки»
- в) ветровой режим «Умеренный»
- г) признак «Качаются толстые сучья деревьев»
- д) ветровой режим «Сильный»

15. Что предусматривает воинская обязанность гражданина РФ?

- а) пребывание в запасе
- б) пребывание в резерве
- в) прохождение военной службы по призыву
- г) прохождение альтернативной гражданской службы
- д) добровольную подготовку к военной службе

16. Что предусматривает обязательная подготовка к военной службе?

- а) занятие военно-прикладными видами спорта
- б) обучение по дополнительным общеобразовательным программам
- в) медицинское освидетельствование
- г) обучение на военной кафедре
- д) получение начальных знаний в области обороны

17. Какие из боевых отравляющих веществ обладают нервно- паралитическим действием? а) зоман

- б) иприт
- в) хлорпикрин
- г) люизит

д) ви-экс

18. Какие из перечисленных ручных осколочных гранат стоят на вооружении ВС РФ? а) М 16

б) МК 26

в) Ф1

г) Л2А2

д) РГО

19. Какие из нижеперечисленных витаминов относятся к жирорастворимым? а) витамин А

б) витамин Д

в) витамин С

г) витамин В6

д) витамин В1

20. Кто из нижеперечисленных лиц обязан оказать первую помощь пострадавшему?

а) человек, оказавшийся рядом

б) водитель автомобиля

в) полицейский

г) пожарный

д) кассир в магазине

21. Какие действия запрещается выполнять при наличии у пострадавшего термического ожога с повреждением целостности кожи? а) накрывать место повреждения чистой салфеткой

б) прикладывать поверх салфетки холод

в) погружать место повреждения в холодную воду

г) отрывать прилипшую к ране одежду

д) давать тёплое питьё

Не забудьте перенести Ваши ответы в таблицу ответов.

Таблица ответов на тестовые задания теоретического тура

Номер тестового задания	Верный ответ	Номер тестового задания	Верный ответ
1		11	
2		12	
3		13	
4		14	
5		15	
6		16	
7		17	
8		18	
9		19	
10		20	

Максимум за






задания 60 баллов.

Задание

2

С целью облегчения поиска людей, попавших в опасную ситуацию целесообразно применять Международную кодовую таблицу воздушных сигналов «Земля-Воздух». Её знаки могут быть выложены с помощью подручных средств (снаряжение, одежда, камни, деревья), непосредственно людьми, которые должны лечь на землю, снег, лёд, или вытоптаны на снегу.

Установите соответствие между сигналами и их значениями. Запишите в таблицу выбранные цифры под соответствующими буквами.

	Сигналы
А	
Б	
В	
Г	
Д	

	Значение
1	Я двигаюсь в этом направлении
2	Всё в порядке
3	Требуется карта и компас
4	Разделились на две группы, каждая следует в указанном направлении.
5	Нужен врач – серьёзные телесные повреждения

Ответ

А	Б	В	Г	Д

Максимум за задание 10 баллов.

Задание

3

Топографические знаки – символические графические обозначения, применяемые на топографических картах для изображения объектов местности и их качественных и количественных характеристик.

Соедините стрелками изображение топографического знака и его обозначение.

	Колодцы
	Проходимые болота
	Непроходимые болота
	Обрывы
	Источники

Максимум за задание 10 баллов.

Максимум за работу 90 баллов.