

# ВСЕРОССИЙСКАЯ ОЛИМПИАДА ШКОЛЬНИКОВ ПО ИСТОРИИ

2018-2019 учебный год  
МУНИЦИПАЛЬНЫЙ ЭТАП  
8 КЛАСС

Максимальный балл – 100

№ задания	1	2	3	4	5	6	7	8	9	10	11	ИТОГО
Баллы												

**1. Решите тестовые задания. Выберите один верный ответ, запишите его в таблицу. (2 балла за каждый верный ответ; максимальный балл – 10)**

**1.1.** Какие новые черты появляются в экономике России в XVII веке:

1. подсечное земледелие
2. натуральное хозяйство
3. мелкотоварное производство
4. ремесленное производство

**1.2.** Что было причиной создания второго ополчения

1. приглашение на престол королевича Владислава
2. ликвидация феодального угнетения
3. освобождение Москвы и территории России от иностранных захватчиков
4. установление республиканского строя

**1.3.** Стремление упорядочить сбор дани заставило княгиню Ольгу:

1. учредить погосты и уроки
2. принять христианство
3. создать Русскую Правду
4. убить киевских князей Аскольда и Дира

**1.4.** О чем свидетельствовало появление в Древнерусском государстве вотчинного землевладения?

1. о сохранении родоплеменных отношений
2. о складывании феодальных отношений
3. о переходе славян к земледелию и скотоводству
4. о распространении христианства

**1.5.** Желание поставить «священство выше царства» стало причиной конфликта между:

1. Российским государством и Речью Посполитой
2. Никоном и Аввакумом
3. Алексеем Михайловичем и Степаном Разиным
4. Никоном и Алексеем Михайловичем

Ответ:

1.1.	1.2.	1.3.	1.4.	1.5.

**2. Решите тестовое задание. Определите верные ответы.** (2 балла при отсутствии неверных позиций в ответе; 0 баллов при наличии ошибок в ответе)

При каких правителях были приняты сборники законов:

1. Мстислав Удалой
2. Всеволод Большое Гнездо
3. Иван Калита
4. Иван III
5. Алексей Михайлович

Ответ: \_\_\_\_\_

**3. По какому принципу образован ряд? Дайте краткий ответ.** (2 балла за каждый верный ответ; максимальный балл – 10)

**3.1.** приказы, Земский собор, земские старосты, земские суды

Ответ: \_\_\_\_\_

**3.2.** 1497 г., 1550 г., 1581г., 1597 г.

Ответ: \_\_\_\_\_

**3.3.** окольниковый, конюший, постельничий, дворецкий

Ответ: \_\_\_\_\_

**3.4.** А. Адашев, А. М. Курбский, Сильвестр

Ответ: \_\_\_\_\_

**3.5.** Аристотель Фиорованти, Алевиз Новый

Ответ: \_\_\_\_\_

**4. Исключите лишнее и дайте краткое объяснение.** (3 балла за каждый верный ответ (при наличии объяснения; максимальный балл – 9)

**4.1.** 1378 г., 1382 г. 1471 г., 1480 г.

Ответ: \_\_\_\_\_

**4.2.** береста, фреска, папирус, пергамент

Ответ: \_\_\_\_\_

**4.3.** Витовт, Кончак, Ольгерд, Ягайло

Ответ: \_\_\_\_\_

**5. Установите последовательность правления древнерусских князей.** (6 баллов при отсутствии неверных позиций в ответе; 0 баллов при наличии ошибок в ответе)

1. Ольга Хитрая
2. Олег
3. Рюрик
4. Игорь Старый
5. Святослав
6. Владимир Мономах
7. Владимир Святой
8. Ярослав Мудрый

Ответ: \_\_\_\_\_

**6. Установите соответствие между именами деятелей XVII века и родом их деятельности.** (5 баллов при отсутствии неверных позиций в ответе; 3 балла при наличии одной ошибки в ответе; 0 баллов при наличии двух и более ошибок в ответе)

ИМЯ	РОД ДЕЯТЕЛЬНОСТИ
А. Кузьма Минин	1. первооткрыватель, открывший пролив между Азией и Америкой
Б. Никон	2. предводитель крестьянской войны
В. Семен Дежнев	3. один из организаторов второго Нижегородского ополчения
Г. Степан Разин	4. инициатор проведения религиозной реформы

Ответ:

А	Б	В	Г

**7. Заполните пронумерованные пропуски в тексте. Вставляемые позиции (имена, даты, термины) занесите под соответствующими порядковыми номерами в таблицу.** (1 балл за каждый верный ответ; максимальный балл – 18)

После смерти \_\_ 1 \_\_ в 1727 г. императором согласно ее \_\_ 2 \_\_ был провозглашен внук \_\_ 3 \_\_ – Петр II. Резкое изменение позиции \_\_ 4 \_\_, ранее не желавшего слышать о сыне казненного царевича \_\_ 5 \_\_, было связано с планом женить малолетнего императора на своей дочери. Но не знавшее границ честолюбие временщика вызвало недовольство даже у его недавних союзников. Против него готовился заговор, возглавлявшийся Толстым. Заговорщики были разоблачены и поплатились ссылкой. Но расправой с Толстым он расчистил путь к власти для аристократии, что в конечном счете ускорило его собственное падение. В сентябре \_\_ 6 \_\_ г. \_\_ 4 \_\_ был арестован, сослан в далекий \_\_ 7 \_\_, где вскоре и умер. Его колоссальные владения, насчитывавшие свыше 100 тыс. крепостных, были конфискованы. После этого

изменился состав \_\_8\_\_, в котором из вельмож петровского времени остались лишь \_\_9\_\_ и Головкин. При дворе большое влияние приобрел Алексей \_\_10\_\_, недалекий интриган, выдвинувшийся благодаря бесшабашному сыну, проводившему время с Петром II в попойках, охоте и грубых развлечениях. Он пытался закрепить свое влияние осуществлением нового проекта брачного союза. На середину января \_\_11\_\_ г. была назначена свадьба Петра II и дочери \_\_10\_\_, но император во время очередной охоты простудился и скоропостижно умер.

Обсуждали возможных кандидатов на престол. Выбор пал на \_\_12\_\_, дочь брата Петра I - \_\_13\_\_. Петр I выдал ее замуж за герцога \_\_14\_\_, но она тут же овдовела и 20 лет провела среди чужого ей иностранного дворянства. В глубокой тайне Голицын с \_\_10\_\_ составили \_\_15\_\_, т. е. условия вступления на \_\_16\_\_.

\_\_12\_\_, безропотно подписавшая \_\_15\_\_ в Митаве, после прибытия в \_\_17\_\_ быстро обнаружила, что "затейка" \_\_8\_\_ не пользуется поддержкой ни у массы \_\_18\_\_, ни у гвардейцев. В их присутствии и при их поддержке она надорвала лист бумаги с подписанными ею \_\_15\_\_.

Ответ:

№	Вставка	№	Вставка
1.		10.	
2.		11.	
3.		12.	
4.		13.	
5.		14.	
6.		15.	
7.		16.	
8.		17.	
9.		18.	

**8. Прочитайте отрывок из документа и ответьте на вопросы (2 балла за каждый верный ответ; максимальный балл – 12)**

Тот, кто от вышней и от всемогущей, все в себе содержащей, десницы Божьей, которой цари царствуют, и которой великие славятся, и могучие возвещают праведность твою, пресветлейшего и высокопрестольнейшего государя великого князя, православного христианского царя и владыки всех, держащему бразды святых Божьих престолов, святой вселенской соборной апостольской церкви пречистой Богородицы, честного и славного ее Успения, кто вместо римского и константинопольского владык воссиял, — ибо старого Рима церковь пала по неверию ереси Аполлинария, второго же Рима, Константинова града, церковные двери внуки агарян секирами и топорами рассекли, а эта теперь же третьего, нового Рима, державного твоего царства святая соборная апостольская церковь во всех концах вселенной в православной христианской вере по всей поднебесной больше солнца светится, — так пусть знает твоя державность, благочестивый царь, что все православные царства христианской веры сошлись в едином твоём царстве: один ты во всей поднебесной христианам царь.

Не преступай, царь, завета, что положили твои предки — великий Константин, и блаженный святой Владимир, и великий богоизбранный Ярослав, и другие блаженные святые, того же корня, что и ты. Не обижай, царь, святых Божьих церквей и честных монастырей, как данных Богу в наследство вечных благ на память последующим родам, на что и священный великий Пятый собор строжайший запрет наложил.

1. Назовите автора текста.

Ответ: \_\_\_\_\_

2. К кому из правителей обращено данное послание?

Ответ: \_\_\_\_\_

3. Как называется теория, возникшая на основе данного письма?

Ответ: \_\_\_\_\_

4. О каких исторических деятелях (предках) говорит автор? Назови не менее трех.

Ответ: \_\_\_\_\_


\_\_\_\_\_

9. Укажите дату (число, месяц, год) получения городом Липецком статуса областного центра? (2 балла при отсутствии неверных позиций в ответе; 0 баллов при наличии ошибок в ответе).


Ответ: \_\_\_\_\_

10. Изучите изображения и ответьте на вопросы, представленные в таблице. (2 балла за каждое верное сопоставление; максимальный балл – 6)

А.



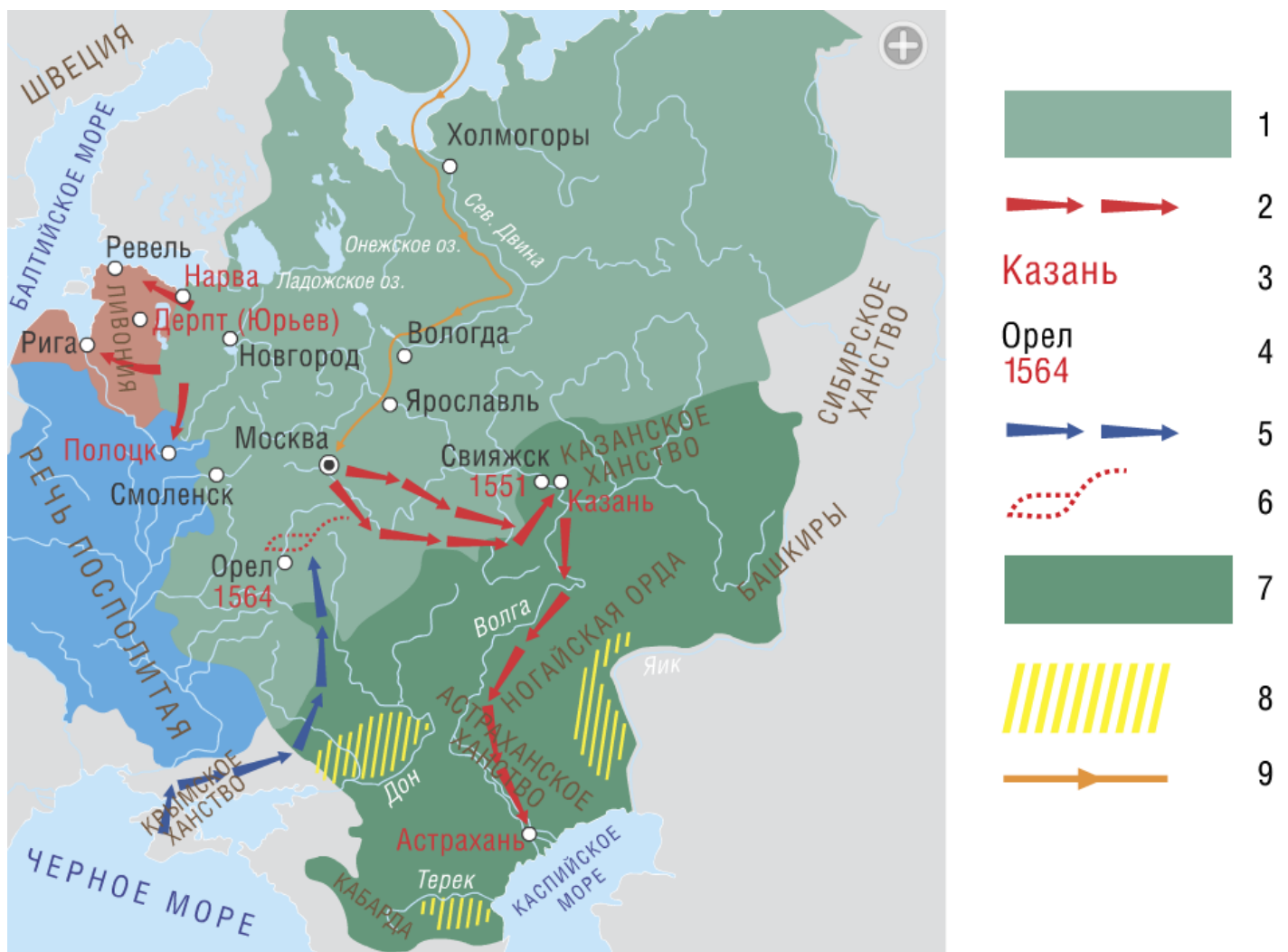
Б.



Ответ:

ВОПРОСЫ	ИЗОБРАЖЕНИЕ А	ИЗОБРАЖЕНИЕ Б
Как называются эти храмы?		
К какому типу храмовой архитектуры относится каждое из строений?		
В каком веке был построен каждый из храмов?		

**11. Внимательно рассмотрите карту «Территориальный рост русского государства в середине XVI в.» и выполните задания. (Максимальный балл за выполнение всего задания – 20)**



1. Определите, что обозначено в легенде к карте цифрами. В случае затруднений используйте материал следующих заданий. Запишите ответ в таблицу. (1 балл за каждый верный ответ; максимальный балл – 9)

Ответ:

№ обозначения в легенде к карте	Объяснение обозначения в легенде к карте
1	
2	
3	
4	
5	
6	
7	
8	
9	

2. С помощью карты определите, об осаде каких городов русскими войсками идет речь в отрывках из «Истории России...» С.М. Соловьева. (2 балл за каждый верный ответ; максимальный балл – 6)

**А.** «В самом начале осады твердость Иоанна выдержала сильное испытание: страшная буря сломала шатры, и в том числе царский, на Волге разбило много судов, много запасов погибло; войско уныло, но не унывал царь; он послал приказ двинуть новые запасы из Свияжска, из Москвы, объявляя твердое намерение зимовать... ездил днем и ночью кругом города, рассматривал места, где удобнее делать укрепления. Осадные работы шли безостановочно...»

**Б.** «Получивши от царя приказ начать неприятельские действия, воеводы с Ивангорода открыли сильную пальбу: город не мог ее выдержать более недели, и 9 апреля, в Великую субботу, выехали... начальники и били челом воеводам, чтоб государь показал милость, взял их в свое имя, от магистра и всей земли Ливонской они отстали... Они дали воеводам заложников, двоих лучших людей, а в Москву послали депутатов».

**В.** «В начале 1563 г. сам Иоанн с большим войском и нарядом двинулся к литовским границам; целью похода был... город, важный сам по себе и особенно по отношению к Ливонии, по торговой связи его через Двину с Ригой. 31 января город был осажден, 7 февраля взят острог, а 15 февраля, после того как 300 сажень стены было выжжено, город сдался...»

Ответ: А. \_\_\_\_\_

Б. \_\_\_\_\_

В. \_\_\_\_\_

3. Определите, о прибытии каких иностранцев идет речь в тексте. (2 балла за верный ответ)

«Ченслер... достиг большого залива, в заметил несколько рыбачьих лодок; рыбаки, испуганные появлением большого, никогда не виданного ими прежде судна, хотели убежать, но были схвачены и приведены пред Ченслера, который ободрил их ласковым приемом... Они отвечали, что они посланы королем Эдурдом VI, должны доставить от него некоторые вещи царю, ищут только дружбы государя русского и позволения торговать с его народом. Местное начальство – выборные головы холмогорские отписали к царю о прибытии иностранцев, спрашивая, что с ними делать. Царь отвечал, чтоб пригласили к нему в Москву, если же они не согласятся на такое долгое и трудное путешествие, то могут торговать с русскими. Но Ченслер не испугался долгого и трудного пути и отправился в Москву...»

Ответ: \_\_\_\_\_

4. По берегам каких трех рек располагались районы компактного расселения казаков? Запишите соответствующие цифры. (3 балла при отсутствии неверных позиций в ответе)

- |         |                   |
|---------|-------------------|
| 1. Дон  | 4. Северная Двина |
| 2. Кама | 5. Терек          |
| 3. Ока  | 6. Яик            |

Ответ: \_\_\_\_\_